



アイテム
①
ブロック

あかいはなが 5ほん
しろいはなが 4ほんあります。
はなは、あわせて、なんほんですか。



アイテム
②
絵

あかいはなが 5ほん
しろいはなが 4ほんあります。
はなは、あわせて、なんほんですか。



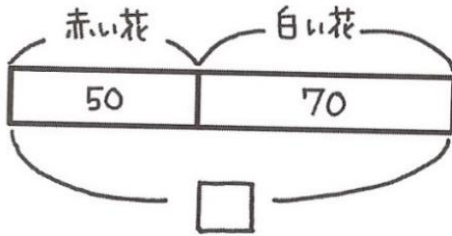
アイテム
③
ドット図
アレイ図

あかいはなが 5ほん
しろいはなが 4ほんあります。
はなは、あわせて、なんほんですか。

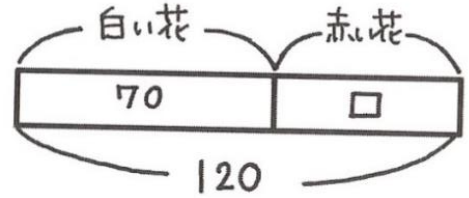


アイテム
④
テープ図

- ① 赤い花が50本
白い花が70本 あります。
花をあわせて何本ですか。

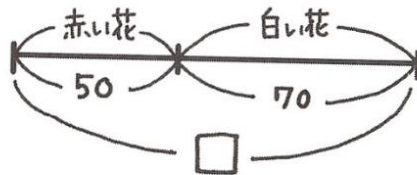


- ② ぜんぶで花が120本
白い花が70本あります。
赤い花は何本ですか。

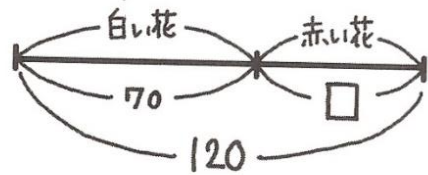


アイテム
⑤
線分図

- ① 赤い花が50本
白い花が70本 あります。
花をあわせて何本ですか。

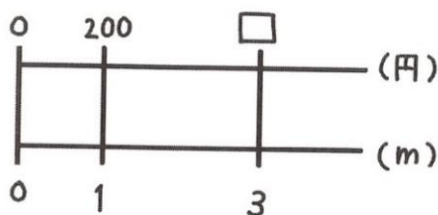


- ② ぜんぶで花が120本
白い花が70本あります。
赤い花は何本ですか。

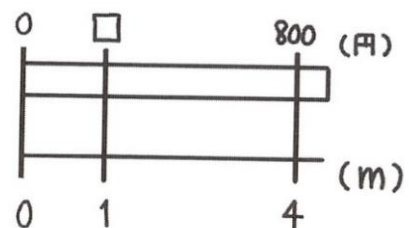


アイテム
⑥
数直線図

- <数直線と数直線>
1m 200円のテープがあります。
3m 買うと
何円になるでしょうか。

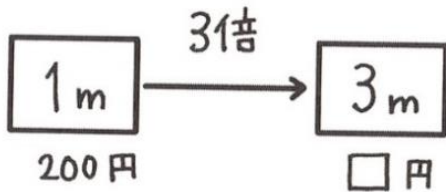


- <数直線とテープ図>
4mで800円のテープがあります
1mで何円ですか。

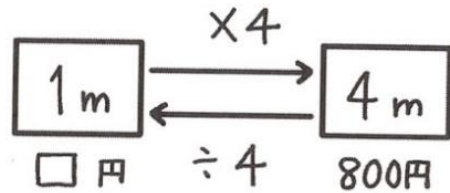


アイテム
⑦
関係図

1m 200円のテープがあります。
3m 買くと
何円になるでしょうか。

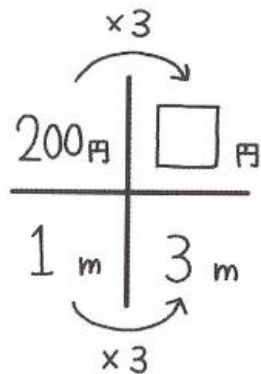


4mで 800円のテープがあります。
1m 何円ですか。

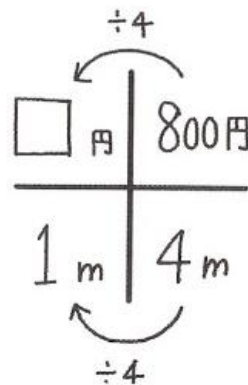


アイテム
⑧
4マス関係図

1m 200円のテープがあります。
3m 買くと
何円になるでしょうか。



4mで 800円のテープがあります。
1m 何円ですか。



アイテム
⑨
数のおきかえ

$\frac{3}{5}$ dLで $\frac{1}{2}$ m² ぬれるペンキがあります。

1 dLで
何m² ぬれますか。



4 dLで 8 m² ぬれるペンキがあります。

1 dLで
何m² ぬれますか。

算数アイテムカード

